

**Examenul național de bacalaureat 2026**  
**Proba E. d)**  
**Geografie**

**BAREM DE EVALUARE ȘI DE NOTARE**

**Model**

**Profilul umanist din filiera teoretică, profilul servicii din filiera tehnologică și toate profilurile și specializările din filiera vocațională, cu excepția profilului militar**

- Se punctează orice modalitate de rezolvare corectă a cerințelor.
- Nu se acordă punctaje intermediare, altele decât cele precizate explicit în barem. Nu se acordă fracțiuni de punct.
- Se acordă zece puncte din oficiu. Nota finală se calculează prin împărțirea la zece a punctajului total acordat pentru lucrare.

**SUBIECTUL I**

**(30 de puncte)**

**A.** Se acordă câte 2p pentru fiecare răspuns corect:

1. **21** – Franța;            2. **4** – Minsk.

**Total (1+2) = 4 puncte**

**B.** Se acordă câte 2p pentru fiecare răspuns corect:

1. **5** – Atena;            2. **20** – Finlanda;            3. **15**.

**Total (1+2+3) = 6 puncte**

**C.** Se acordă câte 2p pentru fiecare răspuns corect:

1. **c**;    2. **c**;    3. **b**;    4. **a**;    5. **c**.

**Total (1+2+3+4+5) = 10 puncte**

**D.** Se acordă câte 2p pentru fiecare deosebire corect prezentată între clima statului marcat, pe hartă, cu numărul **17** (Republica Moldova) și clima statului marcat, pe hartă, cu numărul **24** (Norvegia).

**Nota 1:** Deosebirile se pot referi la oricare dintre următoarele elemente de **climă**: factori genetici, tip de climă, temperaturi medii anuale/vara/iarna, amplitudine termică, precipitații medii anuale/vara/iarna, vânturi cu frecvență ridicată, alte aspecte climatice.

**Nota 2:** Punctajul complet va fi acordat numai dacă deosebirile vor fi prezentate comparativ și nu separat. Pentru prezentarea separată a celor două state se acordă jumătate de punctaj.

**Nota 3:** Nu este necesară precizarea numelor statelor. Se poate face referire la statele respective cu numerele cu care sunt marcate pe hartă.

Pentru fiecare răspuns parțial corect/incomplet se acordă câte 1p. De exemplu, în situația în care candidatul precizează, „În statul marcat, pe hartă, cu numărul 17 se înregistrează precipitații mai reduse comparativ cu statul marcat, pe hartă, cu numărul 24, unde precipitațiile sunt mai bogate”, dar nu precizează concret valoarea precipitațiilor, se acorda 1p.

**Total 6 puncte**

**E. 1.** Se acordă **2p** pentru prezentarea corectă a unui factor natural. Pentru răspuns parțial corect/incomplet se acordă 1p. In situația în care candidatul precizează, de exemplu, doar relief / climă / soluri etc., fără însă a prezenta o explicație completă, se acordă 1p.

2. Se acordă **2p** pentru o explicație corectă. Pentru răspuns parțial corect/incomplet se acordă 1p. In situația în care candidatul precizează, de exemplu, doar așezare geografică / climă / patrimoniu cultural etc., fără însă a prezenta o explicație completă, se acordă 1p

**Total 4 puncte**

**SUBIECTUL al II-lea**

**(30 de puncte)**

**A.** Se acordă câte 2p pentru fiecare răspuns corect:

1. **8** – Brăila;            2. **2** – Trotuș.

**Total (1+2) = 4 puncte**

**B.** Se acordă câte 2p pentru fiecare răspuns corect:

1. **5** - Buzău;            2. **7** – Deva;            3. **20**.

**Total (1+2+3) = 6 puncte**

C. Se acordă câte 2p pentru fiecare răspuns corect:

1. a; 2. b; 3. b; 4. c; 5.c.

**Total (1+2+3+4+5) = 10 puncte**

D. Se acordă câte 2p pentru fiecare deosebire corect prezentată între relieful subunității marcate, pe hartă, cu numărul 13 (Podișul Bârladului) și relieful subunității marcate, pe hartă, cu numărul 19 (Grupa Sudică a Carpaților Orientali/Carpații Curburii).

**Nota 1:** Deosebirile se pot referi la oricare dintre următoarele aspecte ale reliefului: mod de formare, categorii/tipuri de roci, altitudini, gradul de fragmentare, trepte de relief, tipuri genetice de relief, orientarea culmilor și a văilor principale, dispunerea depresiunilor, alte aspecte specifice ale reliefului.

**Nota 2:** Punctajul complet va fi acordat numai dacă deosebirile vor fi prezentate comparativ și nu separat. Pentru tratarea separată a celor două unități de relief se acordă jumătate din punctaj.

**Nota 3:** Nu este necesară precizarea numelor unităților de relief. Se poate face referire la unitățile de relief respective cu numerele cu care sunt marcate pe hartă.

Pentru fiecare răspuns parțial corect/incomplet se acordă câte 1p. În situația în care candidatul precizează, de exemplu, „În subunitatea de relief marcată, pe hartă, cu numărul 13 se înregistrează altitudini mai reduse comparativ cu subunitatea de relief marcată, pe hartă, cu numărul 19, unde altitudinile sunt mai mari”, dar nu precizează concret valoarea altitudinilor, se acordă 1p.

**Total 6 puncte**

E. 1. Se acordă 2p pentru o explicație corectă. Pentru răspuns parțial corect/incomplet se acordă 1p. În situația în care candidatul precizează, de exemplu, doar ploii / ninsori / îngheț-dezgheț etc., fără însă a prezenta o explicație completă, se acordă 1p.

2. Se acordă 2p pentru prezentarea unui factor natural care favorizează cultivarea viței de vie în Câmpia Olteniei. În situația în care candidatul precizează, de exemplu, doar relief/climă/soluri (nisipuri) etc., fără însă a prezenta complet factorul natural, se acordă 1p.

**Total 4 puncte**

### **SUBIECTUL al III-lea**

**(30 de puncte)**

A. Se acordă 4p astfel:

1. 2023 – 1p; 11,4°C – 1p;

2. 2009 – 1p; se acceptă orice valoare cuprinsă între 10,1 și 10,2°C. – 1p.

**Total (1+2) = 4 puncte**

B. 1. se acceptă orice valoare cuprinsă între 1,2 și 1,3°C – 2p;

2. se acceptă orice valoare cuprinsă între 0,7 și 0,8°C – 2p;

3. se acceptă orice valoare cuprinsă între 0,4 și 0,6°C. – 2p.

**Total (1+2+3) = 6 puncte**

C. Se acordă câte 1p pentru fiecare element:

1. 3 state vecine – 3p (câte 1p pentru fiecare);

2. Marea Neagră – 1p;

3. 3 unități de relief – 3p (câte 1p pentru fiecare);

4. 3 orașe – 3p (câte 1p pentru fiecare).

**Total (1+2+3+4) = 10 puncte**

D. 1. 3,8% – 2p;

2. Se acordă 2p pentru o explicație corectă. Pentru răspuns parțial corect/incomplet se acordă 1p. În situația în care candidatul precizează, de exemplu, doar mecanizare slabă / populație rurală numeroasă / îmbătrânită / fără putere financiară etc. fără însă a prezenta o explicație completă, se acordă 1p.

3. Se acordă 2p pentru o explicație corectă. Pentru răspuns parțial corect/incomplet se acordă 1p. În situația în care candidatul precizează, de exemplu, doar sectorul servicii puternic dezvoltat / turism cultural / centru financiar global etc. fără însă a prezenta o explicație completă, se acordă 1p.

**Total (1+2+3) = 6 puncte**

E. 1. Se acordă 2p pentru o explicație corectă. Pentru răspuns parțial corect/incomplet se acordă 1p. În situația în care candidatul precizează, de exemplu, doar insulă vulcanică / activitate vulcanică / vulcani / gheizere etc. fără însă a prezenta o explicație completă, se acordă 1p.

2. Se acordă câte 1p pentru fiecare unitate montană din Europa formată în orogeneza hercinică, corect precizată.

**Total (1+2) = 4 puncte**

**Examenul național de bacalaureat 2026**  
**Proba E. d)**  
**Geografie**

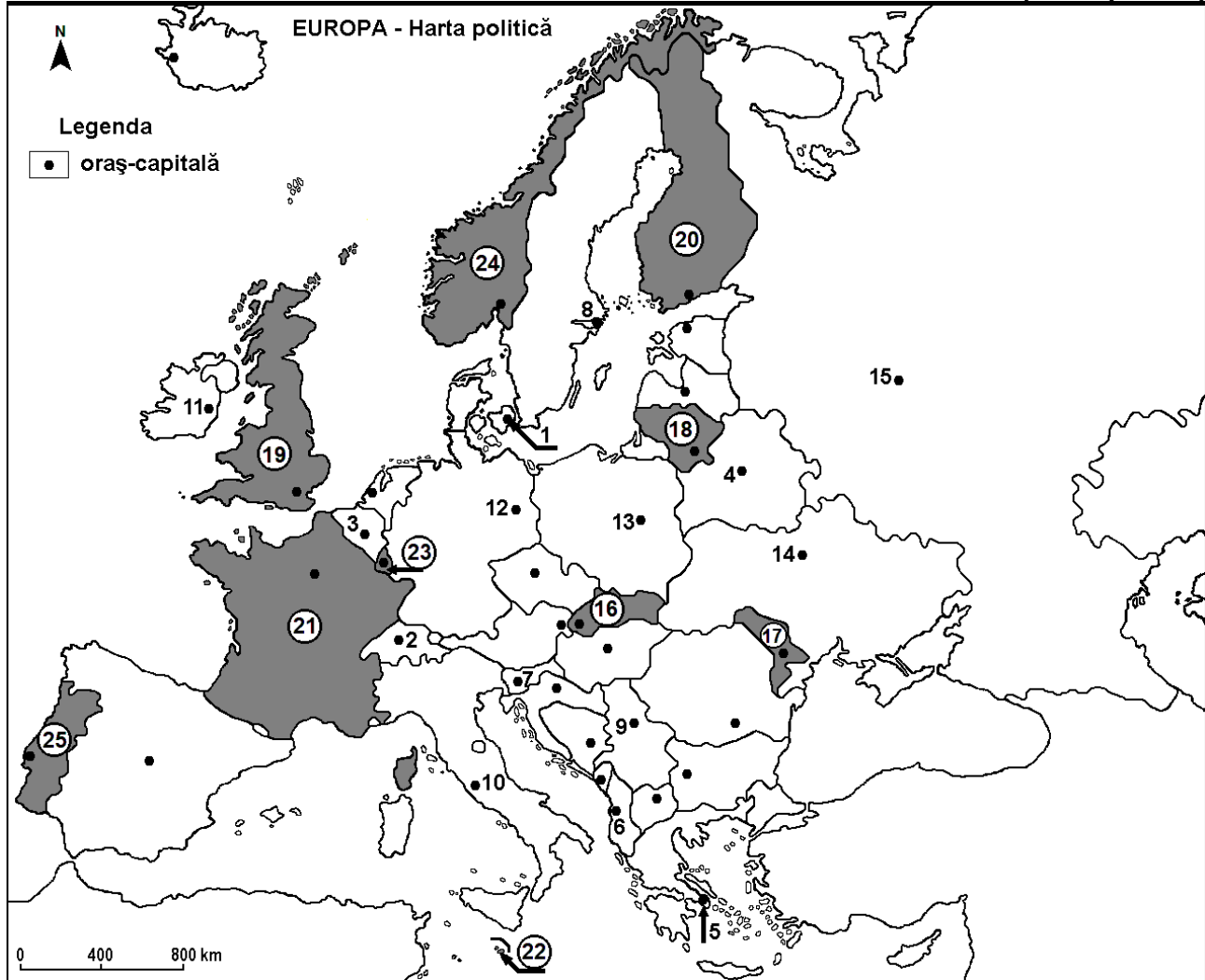
**Model**

*Profilul umanist din filiera teoretică, profilul servicii din filiera tehnologică și toate profilurile și specializările din filiera vocațională, cu excepția profilului militar*

- Toate subiectele sunt obligatorii. Se acordă zece puncte din oficiu.
- Timpul efectiv de lucru este de trei ore.

**SUBIECTUL I**

**(30 de puncte)**



Harta de mai sus se referă la subiectul I A – E. Pe hartă sunt marcate orașe-capitală cu numere de la 1 la 15 și state cu numere de la 16 la 25.

**A. Precizați:**

1. numele statului marcat, pe hartă, cu numărul 21;
2. numele orașului-capitală marcat, pe hartă, cu numărul 4.

**4 puncte**

**B. Scrieți, pe foaia de examen, răspunsurile corecte care completează afirmațiile de mai jos:**

1. Orașul-capitală marcat, pe hartă, cu numărul 5 se numește ...
2. Statul marcat, pe hartă, cu numărul 20 se numește ...
3. Lacurile glaciare Ladoga și Onega se află în statul al cărui oraș-capitală este marcat, pe hartă, cu numărul ...

**6 puncte**

**C. Scrieți, pe foaia de examen, doar litera (a, b, c sau d) corespunzătoare răspunsului corect pentru fiecare dintre afirmațiile de mai jos:**

1. Orașul-capitală Bruxelles este marcat, pe hartă, cu numărul:

a. 1

b. 2

c. 3

d. 12

**2 puncte**

2. Fluviul Dunărea străbate orașul-capitală marcat, pe hartă, cu numărul:  
a. 6                      b. 7                      c. 9                      d. 13                      2 puncte
3. Orașul-capitală marcat, pe hartă, cu numărul 10 se numește:  
a. Madrid                b. Roma                c. Viena                d. Zagreb                2 puncte
4. Munții Penini și Munții Cambrieni se află pe teritoriul statului marcat, pe hartă, cu numărul:  
a. 19                      b. 20                      c. 21                      d. 24                      2 puncte
5. Statul marcat, pe hartă, cu numărul 18 se numește:  
a. Estonia                b. Letonia                c. Lituania                d. Luxemburg            2 puncte

D. Prezentați trei deosebiri între **clima** statului marcat, pe hartă, cu numărul 17 și **clima** statului marcat, pe hartă, cu numărul 24.

**Nota 1:** Deosebirile se pot referi la oricare dintre următoarele elemente de **climă**: factori genetici, tip de climă, temperaturi medii anuale/vara/iarna, amplitudine termică, precipitații medii anuale/vara/iarna, vânturi cu frecvență ridicată, alte aspecte climatice.

**Nota 2:** Punctajul complet va fi acordat numai dacă deosebirile vor fi prezentate comparativ și nu separat.

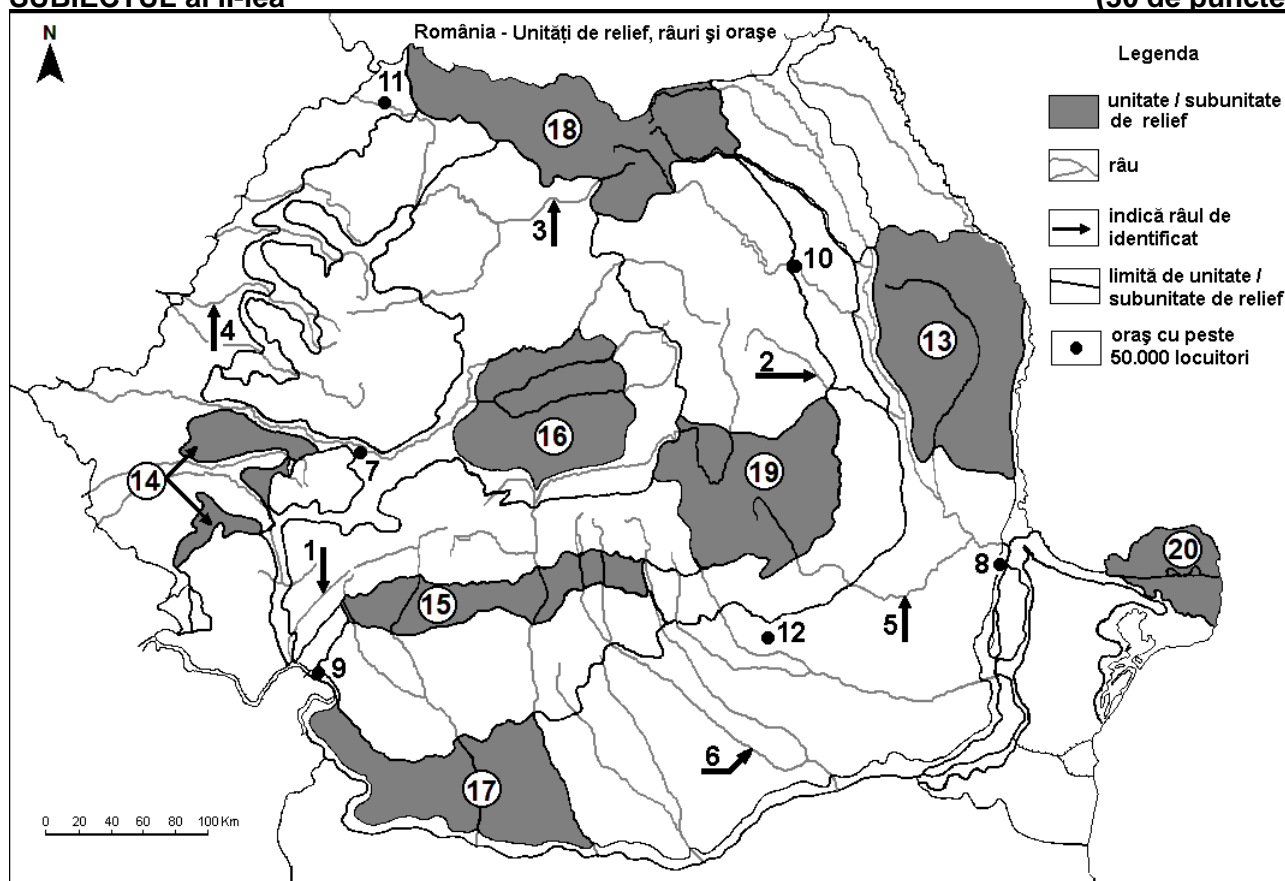
**Nota 3:** Nu este necesară precizarea numelor statelor. Se poate face referire la statele respective cu numerele cu care sunt marcate pe hartă. **6 puncte**

E. 1. Prezentați un factor natural care favorizează potențialul agricol ridicat al statului al cărui oraș-capitală este marcat, pe hartă, cu numărul 14.

2. Explicați potențialul turistic ridicat al statului marcat, pe hartă, cu numărul 22. **4 puncte**

### SUBIECTUL al II-lea

(30 de puncte)



Harta de mai sus se referă la subiectul II A – E. Pe hartă sunt marcate râuri cu numere de la 1 la 6, orașe cu numere de la 7 la 12 și unități/subunități de relief cu numere de la 13 la 20.

A. Precizați:

1. numele orașului marcat, pe hartă, cu numărul 8;

2. numele râului marcat, pe hartă, cu numărul 2.

**4 puncte**

B. Scrieți, pe foaia de examen, răspunsurile corecte care completează afirmațiile de mai jos:

1. Râul marcat, pe hartă, cu numărul 5 se numește ...

2. Orașul marcat, pe hartă, cu numărul 7 se numește ...

3. Delta Dunării este marcată, pe hartă, cu numărul ...

6 puncte

C. Scrieți, pe foaia de examen, **doar litera (a, b, c sau d)** corespunzătoare răspunsului corect pentru fiecare dintre afirmațiile de mai jos:

1. Orașul marcat, pe hartă, cu numărul **10** este străbătut de râul:

a. Bistrița                      b. Moldova                      c. Suceava                      d. Siret                      **2 puncte**

2. Zăcăminte de petrol, gaze naturale și cărbuni există în subunitatea de relief marcată, pe hartă, cu numărul:

a. 13                      b. 15                      c. 16                      d. 17                      **2 puncte**

3. Influențe climatice submediteraneene pătrund în subunitatea de relief marcată, pe hartă, cu numărul:

a. 13                      b. 14                      c. 16                      d. 18                      **2 puncte**

4. Râul marcat, pe hartă, cu numărul **4** se numește:

a. Barcău                      b. Crișul Alb                      c. Crișul Negru                      d. Crișul Repede                      **2 puncte**

5. Relief vulcanic se găsește în subunitatea de relief marcată, pe hartă, cu numărul:

a. 14                      b. 15                      c. 18                      d. 19                      **2 puncte**

D. Prezentați trei deosebiri între **relieful** subunității marcate, pe hartă, cu numărul **13** și **relieful** subunității marcate, pe hartă, cu numărul **19**.

**Nota 1:** Deosebirile se pot referi la oricare dintre următoarele aspecte ale **reliefului**: mod de formare, categorii/tipuri de roci pe care s-a format relieful, altitudini, gradul de fragmentare, trepte de relief, tipuri genetice de relief, orientarea culmilor și a văilor principale, dispunerea depresiunilor, alte aspecte specifice ale reliefului.

**Nota 2:** Punctajul complet va fi acordat numai dacă cele trei deosebiri vor fi prezentate comparativ și nu separat.

**Nota 3:** Nu este necesară precizarea numelor unităților de relief. Se poate face referire la unitățile de relief respective cu numerele cu care sunt marcate pe hartă. **6 puncte**

E. 1. Explicați modul în care un factor natural influențează regimul hidrologic al râului marcat, pe hartă, cu numărul 1.

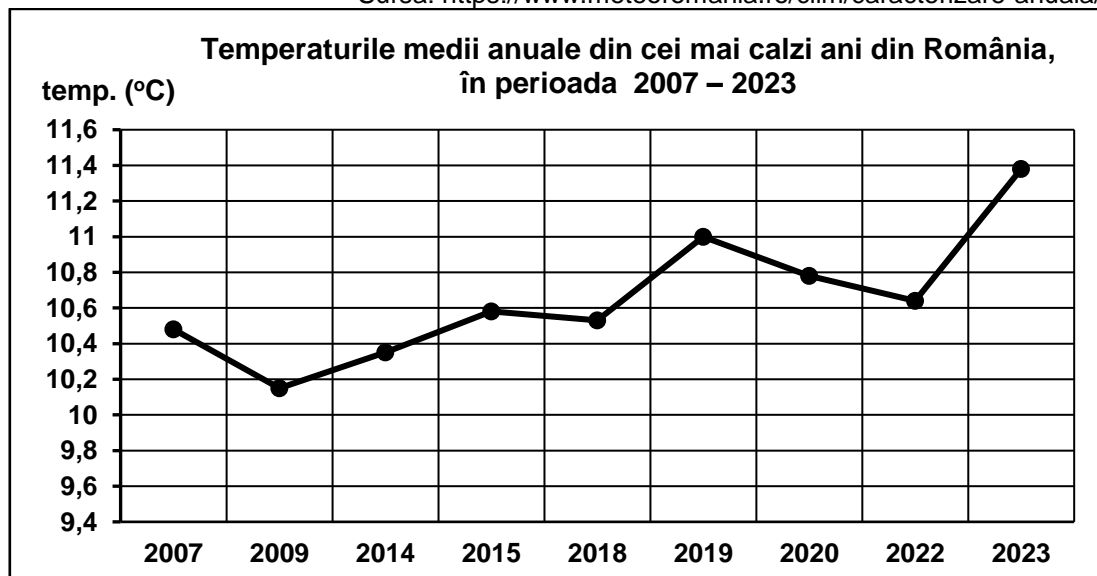
2. Prezentați un factor natural care favorizează cultivarea viței de vie în subunitatea de relief marcată, pe hartă, cu numărul 17. **4 puncte**

### SUBIECTUL al III-lea

(30 de puncte)

Reprezentarea grafică de mai jos se referă la subiectul III A-B și prezintă temperaturile medii anuale ale celor mai calzi ani din România, în perioada 2007 – 2023.

Sursa: [https://www.meteoromania.ro/clim/caracterizare-anuala/cc\\_2023](https://www.meteoromania.ro/clim/caracterizare-anuala/cc_2023)



A. Precizați:

1. anul în care s-a înregistrat cea mai ridicată temperatură medie anuală și valoarea acesteia;

2. anul în care s-a înregistrat cea mai scăzută temperatură medie anuală și valoarea acesteia.

**4 puncte**

**B. 1.** Calculați amplitudinea termică medie dintre valoarea cea mai ridicată și valoarea cea mai scăzută a temperaturilor medii anuale din tabel.

**2.** Calculați cu câte grade a fost mai ridicată temperatura medie anuală în anul 2023 față de 2022.

**3.** Calculați cu câte grade a fost mai ridicată temperatura medie anuală în anul 2019 față de 2007.

**6 puncte**

**C.** Pentru **Bulgaria**, precizați numele:

**1.** a trei state vecine;

**2.** unități acvatice la care are ieșire;

**3.** a trei unități de relief;

**4.** a trei orașe.

**10 puncte**

**D.** Tabelul de mai jos prezintă structura populației ocupate, pe sectoare, în trei state europene, în anul 2009.

	Agricultură (%)	Industrie (%)	Servicii (%)
Franța	X	24,4	71,8
România	29,7	23,2	47,1
Regatul Unit al Marii Britanii și Irlandei de Nord	1,4	18,2	80,4

*Sursa: The World Factbook 2010*

**1.** Calculați procentul populației ocupate în agricultură în Franța.

**2.** Explicați procentul ridicat al populației ocupate în agricultură în România.

**3.** Explicați procentul ridicat al populației ocupate în sectorul Servicii în Regatul Unit al Marii Britanii și Irlandei de Nord.

**6 puncte**

**E. 1.** Explicați faptul că Islanda obține o producție mare de energie electrică din surse geotermale.

**2.** Precizați numele a două unități montane din Europa formate în orogeneza hercinică.

**4 puncte**